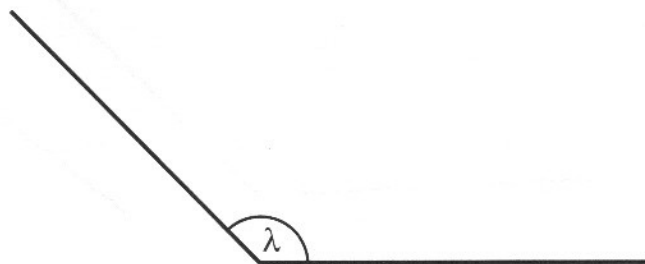
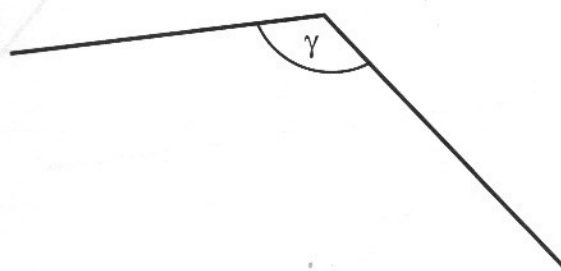
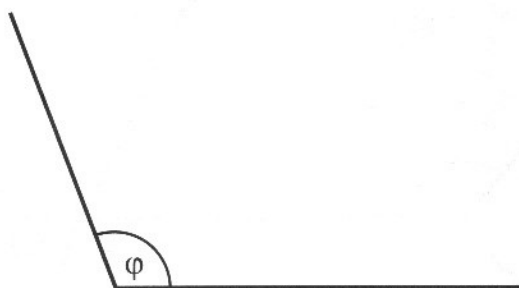
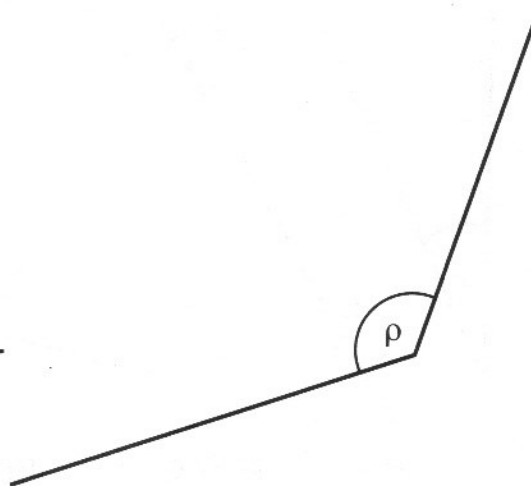
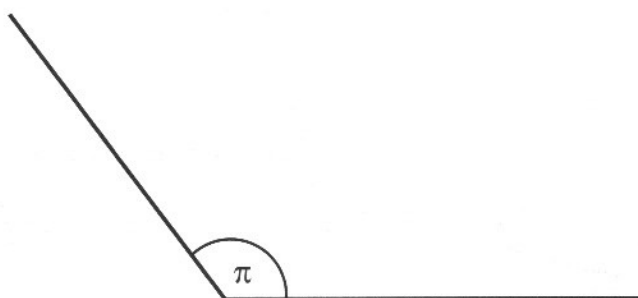


- * 5. Rozděl dané úhly na čtvrtiny.



- * 6. Narýsuj osminu z daného úhlu.



2. Velikost úhlu

1. Urči velikost ostrého úhlu, který svírají hodinové ručičky, když ukazují právě:
(Pomoz si vyznačením do obrázku.)

- a) 15.00 hodin
20.00 hodin
7.00 hodin
5.00 hodin

- b) 13.00 hodin
10.00 hodin
6.00 hodin
12.00 hodin

- c) 12.30 hodin
15.30 hodin
9.30 hodin
11.30 hodin

- d) 2.30 hodin
17.30 hodin
půl osmé
půl jedenácté

