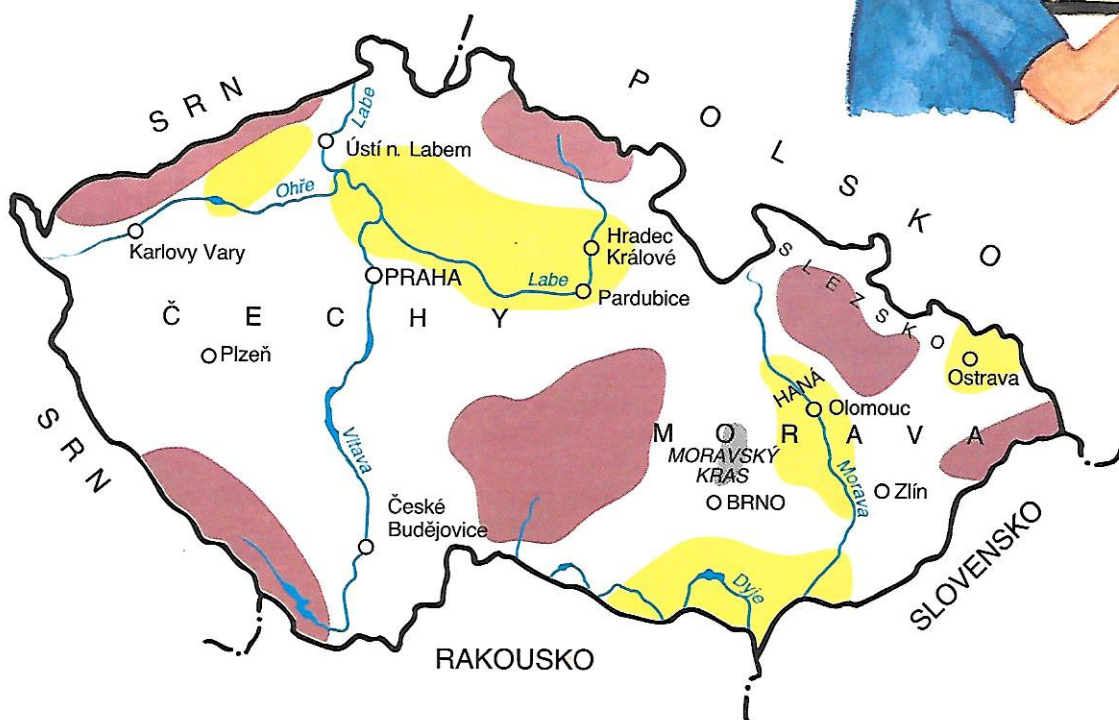



# ČESKÁ REPUBLIKA - NEJVĚTŠÍ MĚSTA, OBLASTI

## Čechy

Vlastík se zeptal Vědky, jestli ví, které je největší město v České republice. Vědka to samozřejmě věděla, protože jste se to nedávno učili ve vlastivědě. Dnes poznáte další velká města.





Náměstí v Pardubicích

Pardubice a Hradec Králové leží ve východní části Polabí.

V Polabí jsou úrodné půdy. Pěstují se zde obiloviny a cukrová řepa. V okolí velkých měst se pěstuje zelenina.

- Ukažte obě města na mapě.
- Na které řece leží?
- Víte něco o Pardubicích?
- Co se vyrábí z cukrové řepy?





Ústí nad Labem

Hodně průmyslových závodů je v Mostecké pánvi a při řece Labi. Tyto závody znečišťují vzduch i vodu v řekách. Velkým průmyslovým městem na severu Čech je **Ústí nad Labem**.


- Ukažte město Ústí nad Labem na mapě.
- Na jaké řece toto město leží?
- Jak působí na životní prostředí průmyslové závody v Mostecké pánvi?

Pod Krušnými horami leží město **Karlovy Vary**. Zdejší minerální prameny daly vzniknout světoznámým lázním.

- Ukažte na mapě Karlovy Vary.
- Jak na mapě poznáte lázně?
- Vyhledejte na mapě ještě jiná lázeňská města v Čechách.

Střediskem západních Čech je **Plzeň**. Toto průmyslové město je druhým největším českým městem.

- Ukažte na mapě město Plzeň. Víte něco o tomto městě?



Náměstí v Plzni

Na jihu Čech leží město **České Budějovice**. V jeho okolí je hodně rybníků. Chovají se v nich ryby, především kapři. Některé rybníky slouží i k rekreaci.



Jihočeský rybník

- Ukažte na mapě České Budějovice. Která řeka protéká městem?
- K čemu slouží rybníky v okolí?
- Řekněte, ve kterých oblastech leží tato města:  
Hradec Králové,  
Ústí nad Labem,  
Plzeň,  
České Budějovice.